

| Zahlbereich |        |        |        |        |        |        |         |           |            |               | Rechenoperationen |               |              |          |             | Grundlagen     |          |        |          | Geometrie | Bauplan | Würfelgebäude  |               |           |         |               |
|-------------|--------|--------|--------|--------|--------|--------|---------|-----------|------------|---------------|-------------------|---------------|--------------|----------|-------------|----------------|----------|--------|----------|-----------|---------|----------------|---------------|-----------|---------|---------------|
| bis 9       | bis 10 | bis 20 | bis 30 | bis 40 | bis 50 | bis 70 | bis 100 | bis 1.000 | bis 10.000 | größer 10.000 | ohne 0            | ohne Übertrag | mit Merkmahl | Addition | Subtraktion | Multiplikation | Division | Brüche | Prozente | Zahlen    | Mengen  | Ganzes / Teile | Dezimalsystem | Geometrie | Bauplan | Würfelgebäude |

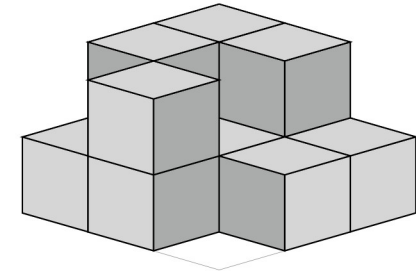
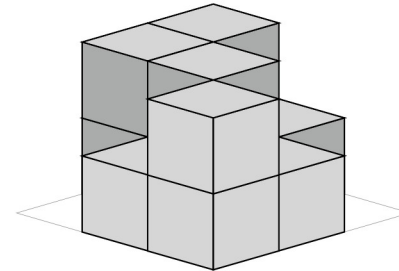
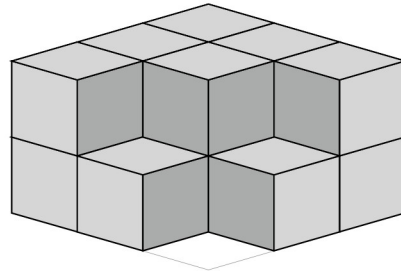
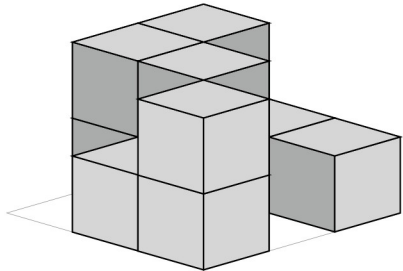
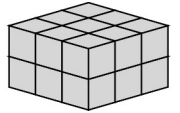
Datum

Name | Datum

80\_03\_6 [557] Geometrie Würfelgebäude

**Eine Würfelgebäude soll aus 18 Würfel zusammengesetzt werden.**

Bauplan: 3 x 3 x 2



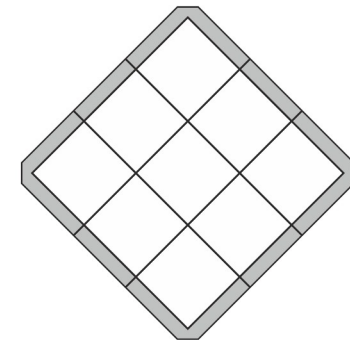
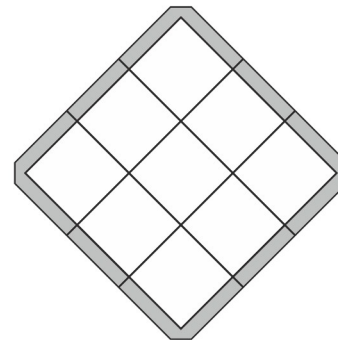
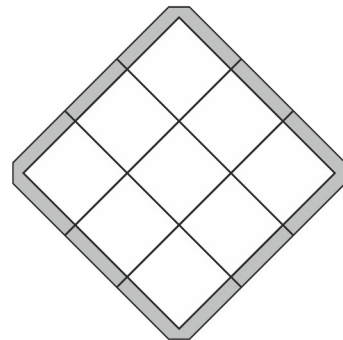
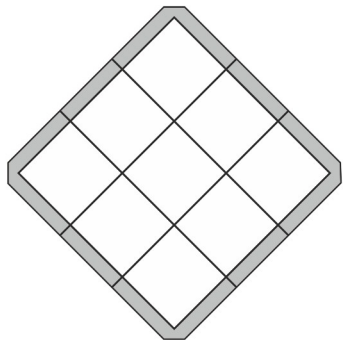
Erstelle einen Plan nach den vorgegebenen Würfeln:

**Bauplan**

**Bauplan**

**Bauplan**

**Bauplan**



**Wie viele Würfel:**

Es sind \_\_\_\_\_ Würfel.  
Es fehlen \_\_\_\_\_ Würfel.

Es sind \_\_\_\_\_ Würfel.  
Es fehlen \_\_\_\_\_ Würfel.

Es sind \_\_\_\_\_ Würfel.  
Es fehlen \_\_\_\_\_ Würfel.

Es sind \_\_\_\_\_ Würfel.  
Es fehlen \_\_\_\_\_ Würfel.

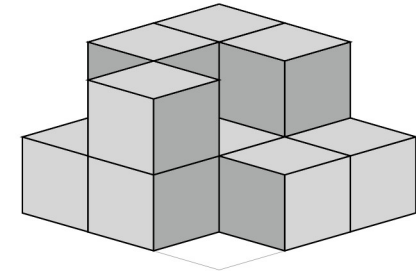
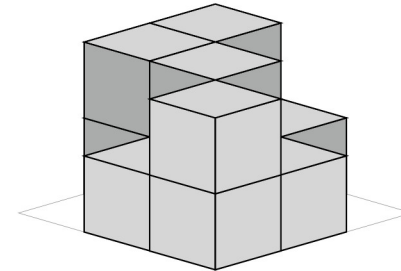
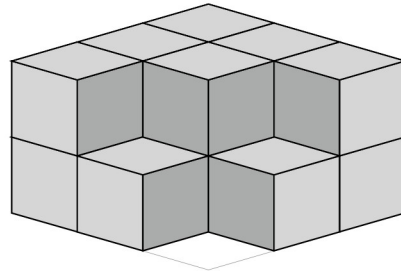
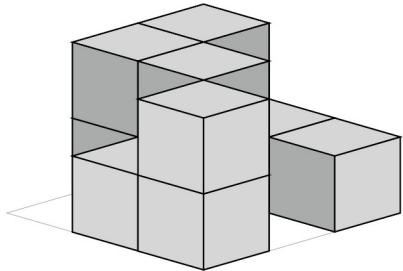
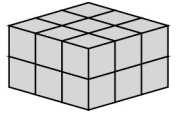
| Zahlbereich |        |        |        |        |        |        |         |           |            |               | Rechenoperationen |               |               |          |             | Grundlagen     |          |        |          |        |        |                |               |           |         |               |
|-------------|--------|--------|--------|--------|--------|--------|---------|-----------|------------|---------------|-------------------|---------------|---------------|----------|-------------|----------------|----------|--------|----------|--------|--------|----------------|---------------|-----------|---------|---------------|
| bis 9       | bis 10 | bis 20 | bis 30 | bis 40 | bis 50 | bis 70 | bis 100 | bis 1.000 | bis 10.000 | größer 10.000 | ohne 0            | ohne Übertrag | mit MerkHzahl | Addition | Subtraktion | Multiplikation | Division | Brüche | Prozente | Zahlen | Mengen | Ganzes / Teile | Dezimalsystem | Geometrie | Bauplan | Würfelgebäude |

Lösung

80\_03\_6 [557] Geometrie Würfelgebäude

Eine Würfelgebäude soll aus 18 Würfel zusammengesetzt werden.

Bauplan: 3 x 3 x 2



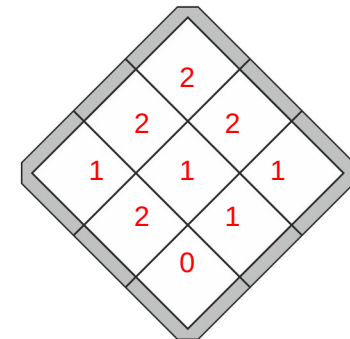
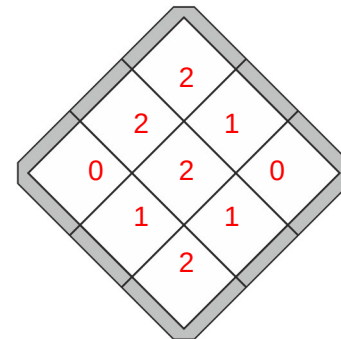
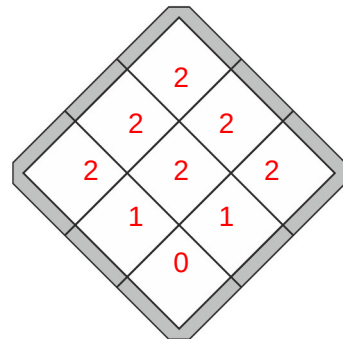
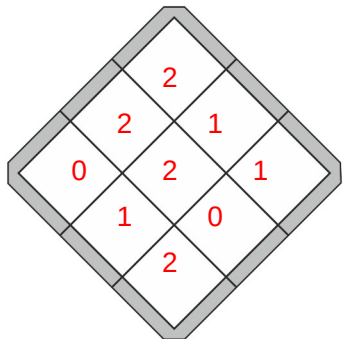
Erstelle einen Plan nach den vorgegebenen Würfeln:

Bauplan

Bauplan

Bauplan

Bauplan



Wie viele Würfel:

Es sind 11 Würfel.  
Es fehlen 7 Würfel.

Es sind 14 Würfel.  
Es fehlen 4 Würfel.

Es sind 11 Würfel.  
Es fehlen 7 Würfel.

Es sind 12 Würfel.  
Es fehlen 6 Würfel.

